

准考证号

姓名

线
.....
封
.....
线

2024年贵州省省考行测卷真题

金粉笔教育整理

(网友回忆版)

重要提示:

为维护您的个人权益,确保公务员考试的公平公正,请您协助我们监督考试实施工作。

本场考试规定:监考老师要向本考场全体考生展示题本密封情况,并邀请2名考生代表验封签字后,方能开启试卷袋。

第一部分常识判断

(共15题，每题1.3分，共19.5分，参考时限10分钟)

根据题目要求，在四个选项中选出一个最恰当的答案。

请开始答题：

1. “周虽旧邦，其命维新”。习近平总书记指出，中国式现代化是中华民族的旧邦新命，必将推动中华文明重焕荣光。下列关于中国式现代化说法正确的有几项？

- ①中国式现代化深深植根于中华优秀传统文化，体现了科学社会主义的先进本质
- ②中国式现代化借鉴吸收一切人类优秀文明成果，是一种全新的人类文明形态
- ③中国式现代化是中国共产党领导的社会主义现代化，是文明更新的结果
- ④中国式现代化蕴含的独特世界观、价值观、历史观、文明观、民主观、生态观及其伟大实践，是对世界现代化理论和实践的重大创新
- ⑤中华文明赋予中国式现代化以深厚底蕴，走中国式现代化道路，赋予中华文明以现代力量

A.2

B.3

C.4

D.5

2. 党的二十大报告指出，我们要坚持以推动高质量发展为主题，把实施扩大内需战略同深化供给侧结构性改革有机结合起来，增强国内大循环内生动力和可靠性。下列关于扩大内需说法正确的有几项？

- ①建立和完善扩大居民消费的长效机制，使居民有稳定收入能消费，没有后顾之忧敢消费，消费环境优获得感强敢消费
- ②加快发展贸易新业态、新模式，进一步发挥进出口对我国经济的支撑作用
- ③深化供给侧结构性改革，形成供给牵引需求、需求创造供给的更高水平动态平衡
- ④通过政府投资和政策鼓励有效带动全社会投资、形成有本金和债务约束的金融需求
- ⑤鼓励和吸引更多民间资本参与国家重大工程和补短板项目建设，激发民间投资活力

A.2

B.3

C、4

D.5

3. 无农不稳，无粮则乱、习近平总书记指出，农业强，首要是粮食和重要农产品供给保障能力必须强，下列举措属于提升粮食产能的有几项？

- ① 切实把种业振兴行动抓出成效，加快生物育种产业化步伐
- ② 完善农资保供稳价应对机制，稳定农民预期、降低生产风险
- ③ 逐步把永久基本农田全部建成高标准农田，确保建一块成一块
- ④ 制止“舌尖上的浪费”，深入开展“光盘行动”，提倡健康饮食
- ⑤ 坚决守住18亿亩耕地红线，坚决遏制“非农化”，有效终止“非粮化”

A.2

B.3

C.4

D.5

4. 习近平法治思想是对中国共产党领导法治建设丰富实践和宝贵经验的科学总结，是一个内涵丰富、论述深刻、逻辑严密、系统完备的科学理论体系。下列关于习近平法治思想说法正确的有几项？

- ① 自由是秩序的目的，秩序是自由的保障
- ② 党的领导是社会主义法治之魂，是我国法治与西方资本主义国家法治最大的区别
- ③ 发挥领导干部示范带头作用，努力使尊法学法守法用法在全社会蔚然成风
- ④ 新闻媒体要加强对执法司法工作的监督，但对执法司法部门的正确行动，要予以支持，

加强解疑释惑，进行理性引导

⑤ 加强重点领域、新兴领域、涉外领域立法，统筹推进国内法治和涉外法治，以良法促进发展、保障善治

A.2

B.3

C.4

D.5

5. 习近平总书记强调、要用好红色资源，传承好红色基因，把红色江山世世代代传下去。

下列红色基地与主题党课开设搭配最合理的是：

- ① 北大红楼：红色序章
- ② 南湖红船：清正廉洁
- ③ 遵义会议会址：伟大转折
- ④ 延安革命根据地：革命摇篮

A.①②

B.①③

C.②④

D.③④

6. 货币不仅是固定充当一般等价物的特殊商品，更是人类文明发展史中各个阶段的里程碑，下列语句中关于货币的发展按时间先后排序正确的是：

- ①氓之蚩蚩，抱布贸丝
- ②青钱白璧买无端，丈夫快意方为欢
- ③农工商交易之路通，而龟贝金钱，刀布之币兴焉
- ④蜀川老觉家潼川，怀中交子是铁钱

A.①④②③

B.②④①③

C.③②①④

D.①③②④

7. 下列关于自首的判断说法正确的是：

A. 甲和乙共同实施盗窃犯罪，后甲因为内心害怕，主动到公安机关交代，并独自承担了全部罪行，甲构成自首

B. 甲和乙共同实施诈骗犯罪，后甲因酒驾被公安机关讯问时，主动交代乙曾经实施的故意杀人行为、甲构成自首

C. 王某交通肇事逃逸，其父知道后将其扭送至公安机关，王某主动交代了其肇事逃逸行为，王某构成自首

D. 甲公司非法集资且规模很大，该公司总经理李某因为害怕，瞒着其他高管偷偷到公安机关交代了相关情况；李某作为单位犯罪的直接责任人不能单独成立自首

8. 2023年9月1日，江某在广东某酒店购买高档月饼1盒，付款3000元。江某食用后出现严重腹泻，花费2000元治疗，后查明，该月饼外包装标识均为繁体字，保质期截止到2023年8月30日。对此，下列说法错误的是：

A. 该月饼外包装必须依法标注简体中文

B. 某酒店出售明知不符合食品安全标准的食品，应当对其予以行政处罚

C. 江某有权要求某酒店赔偿2000元损失，并要求支付30000元的赔偿金

D. 江某应知该月饼已经超过保质期仍然购买，其自身也有问题，只能要求某酒店退还购买月饼的3000元

9. 下列关于我国科技成就说法正确的是：

①“三峡氢舟1号”——助推我国首次在南海海域成功开采可燃冰

②“可持续发展科学卫星1号”——专门服务联合国2030年可持续发展议程的科学卫星

D.《异苑》中提到有户人家的铜盆经常发出声音，后来发现是与宫中撞钟相应，用锉刀锉了铜盆后，声音就消失了——多普勒效应

15. 下列诗词中包含的生物学现象说法错误的是：

- A. 野火烧不尽，春风吹又生——草原生态系统具有稳定性
- B. 群雁辞归鹄南翔，念君客游思断肠——候鸟通过迁徙适应气候变化
- C. 停车坐爱枫林晚，霜叶红于二月花——植物开花受温度和光照影响
- D. 落红不是无情物，化作春泥更护花——微生物的分解作用及物质的循环

※※※第一部分结束，请继续做第二部分!※※※

第二部分言语理解与表达

(共32题，每题1.3分，共41.6分，参考时限40分钟)

本部分包括表达与理解两方面的内容。请根据题目要求，在四个选项中选出一个最恰当的答案。

请开始答题：

16. 汉语溯源，我们主张从造字义入手，揭示其特征义、结合训诂材料和文献例证，从语素相互选择和古今沟通的角度，探讨词语产生的构词理据和意义变化等。只有这样，才有可能真正找到字词产生的源头、在纷繁复杂的词义系统里_____，层层深入，探明真相。

填入画横线部分最恰当的一项是：

- A. 去伪存真
B. 去粗取精
C. 抽丝剥茧
D. 按图索骥

17. 要解决一个大问题，往往要有好的工具。工具的发展是一个_____的过程，新工具能够促进学问的继续发展，提升我们看待问题的深度，又反过来促进我们进一步发展工具。每一次工具的进步，都会带动有意义的、重要的、突破性的学问的发展。

填入画横线部分最恰当的一项是：

- A. 锦上添花
B. 精益求精
C. 千锤百炼
D. 精雕细琢

18. 许多自媒体采取“流量至上”的经营模式，为追求流量，可能并不会审查所推送的信息是否失真，但对于大量面临“信息茧房”障碍的读者来说，一般不会去思考和辨别言论的真伪，即便有疑虑也难以去辨别，所以，实践中_____的情形较多。

填入画横线部分最恰当的一项是：

- A. 偏听偏信
B. 亦步亦趋
C. 人云亦云
D. 盲从盲信

19. 从道理上讲，科普和科幻都可以_____，但实际上，科普的范围更广，科普可以涉及天文、地理、数学、物理、人工智能等多个学科，可以多方面铺开，而且科普的形式包括写科普文章、出版科普书籍、办科普讲座等，但科幻的载体主要是小说、电影，科幻作品的范围较为_____和集中。

依次填入画横线部分是恰当的一项是：

A. 一应俱全局限

B. 应有尽有狭隘

C. 无所不包有限

D. 包罗万象狭窄

20. 中国的岁时节日既情意盎然又韵味绵长，以其深厚的旨趣，令人_____，堪称中国人的精神原乡。作为人类非物质文化遗产，如今的中国岁时节日，早已把中国与世界紧密地联系在一起，世界各地都有中国的节庆文化，华夏民族的古老智慧，在_____中滋润着这个世界。

依次填入画横线部分最恰当的一项是：

A. 心向往之春风化雨

B. 心旌摇荡继往开来

C. 心驰神往历久弥新

D. 心旷神怡 经久不衰

21. 电影黄金档期票房以及年度总票房在整个经济总量中占比不高，但电影产业的经济影响_____，因为人们会通过这一数字，来_____经济、社会的运转状况，尝试从中寻找规律、得到启发。

依次填入画横线部分最恰当的一项是：

A. 毋庸置疑分析

B. 不容小觑管窥

C. 举足轻重估量

D. 兹事体大洞察

22. 文旅开发需注重对古镇自然环境的呵护，避免简单_____其他文旅项目大广场、大草坪、大展馆等设计，应当留住古镇清幽、古朴的历史风貌，而大规模迁移原住居民、过度引入商业设施的开发模式，已经让众多注重旅游体验的游客“用脚投票”，尤当_____

依次填入画横线部分最恰当的一项是：

A. 移植引以为戒

B. 复制居安思危

C. 参考防微杜渐

D. 借鉴慎之又慎

23. 对于热议的“网约车订单饱和”情况不能_____，部分城市部分时段或部分月份可能出现短暂性动态饱和，回归到市场供求来说，网约车平台的多少，尤其是网约车车辆的多少，最终还是取决于公众出行需求多寡。市场具有自主调节能力，相关部门适时_____风险，对于动态调整市场供求关系也将发挥积极作用。

依次填入画横线部分最恰当的一项是：

A. 简而言之防范

B. 一概而论预警

C. 予以臧否调控

D. 妄下结论评估

24. 近日，被称作“宝宝巴士”的新能源小车火出圈，与其说是可爱的形象俘获了大众

的芳心，倒不如说是新的生活审美态度在这几年间_____发生了转变，回归于事物的本质功能。人们日益发觉，简单、温暖地生活着，其实就是一种_____的幸福。

依次填入画横线部分最恰当的一项是：

- A. 募然不可多得
B. 豁然无可替代
C. 全然难以名状
D. 悄然弥足珍贵

25. 竞技体育的天才型选手，胜利对于他们似乎是_____的。他们将其他人远远甩在身后的同时，或许反而会有淡淡的失落。有的天才选手因此会迷失，不再沉心训练，仅仅闪光了几个瞬间，就被时代抛弃，_____于众人。

依次填入画横线部分最恰当的一项是：

- A. 驾轻就熟无异
B. 天公地道 泯然
C. 信手拈来混迹
D. 唾手可得湮没

26. 就常理而言，阳春白雪似乎和下里巴人“_____”，除非下里巴人能够在绵延的历史长河中不断升级，最后跻身阳春白雪之列。可下里巴人转化为阳春白雪，往往又是以失去大量受众为代价的，这仿佛已是艺术史上一条_____的定律。

依次填入画横线部分最恰当的一项是：

- A. 南辕北辙亘古不变
B. 势不两立颠扑不破
C. 判若云泥屡试不爽
D. 各自为阵毋庸置疑

27. 县域是连接农村和城市的重要 _____，也是未来城镇化的重要载体。然而，虽然县域流动户籍限制取消，农民工落户意愿却并未显著 _____。究其原因，县域产业集聚力弱、公共服务滞后等因素，都影响了其落户意愿。因此，进一步提升县域农民工市民化质量，关键是 _____ “稳定就业难、体面居住难、安心落户难”三大难题。

依次填入画横线部分最恰当的一项是：

- A. 纽带增加解决
B. 枢纽增强破解
C. 关节加强分解
D. 节点上涨解答

28. 阿尔茨海默病(AD)可能始于_____症状出现前的几年甚至几十年，但是过去我们缺少被广泛_____的方法，能在AD最早期将其识别出来，2023年公布的新版 AD 诊断标准修订草案，将血浆生物标志物_____生物标志物分类，疾病诊断和分期等条目，早发现、早诊断、早治疗或不再是一句空话。

依次填入画横线部分最恰当的一项是：

A. 明显接受纳入

B. 典型运用列入

C. 严重普及收入

D. 确切认可载入

29. 一款零食以前能靠独特口味畅销十几年，这在今天几乎是天方夜谭。新爆款横空出世，模仿者很快 _____，消费者的新鲜感被迅速透支。当朝生暮死成为网红食品的常态，相比于 _____ 的零食巨头，轻资产的中小品牌反而更容易在时代变幻莫测的风向中 _____

依次填入画横线部分最恰当的一项是：

A. 蜂拥而至 尾大不掉 闪转腾挪

B. 后来居上 作茧自缚 捷足先登

C. 青出于蓝 因循守旧 稳操胜券

D. 龙争虎斗 老气横秋 脱颖而出

30. 蜱虫具有恐怖的吸血能力，它会找到皮肤上隐蔽的角落，_____地吸血好几天。人却无法察觉。这是因为蜱虫的唾液就像鸡尾酒一样，由各种蛋白质“_____”而成，其中一些让人不痛不痒，一些让血液不会凝固，还有一些保证不会_____人的免疫系统多种病原体便会趁机入侵人体。

依次填入画横线部分最恰当的一项是：

A. 不声不响 搅拌 启动

B. 堂而皇之 调配 惊扰

C. 明目张胆 凝结 触发

D. 有恃无恐 混合 唤醒

31. 正所谓桑海苍田，6000年前的撒哈拉可能并非大沙漠，而是一片大草原，19世纪中叶，德国探险家海因里希·巴特在_____的撒哈拉沙漠中意外发现史前岩画，数10万幅精美的画像，描绘着种族繁盛的大象、长颈鹿、河马和羚羊被猎人追捕的_____场景，可以推想，史前人类_____了撒哈拉由草原变成沙漠的过程。

A 沉寂神秘 见证

B 干燥震撼 记录

C 荒凉生动 经历

D 广袤壮观 目睹

32. 数字媒介是现代文明尤其是科学技术文明的最新成果，它本身就是现代文明的一部分，在数字媒介上人们不断创造新的文化样态，传承并创新传统文化形式；文明交流过程中的文化遗产、思想观念、文化艺术等部分内容都可以被数字化，交流过程中也被存储于云端，

时间与空间问题不再制约文明交流，能否数字化则是影响文明交流互鉴的关键，文明交流主体间的关系是多向度的，既是现实的交往也是虚拟的交往，既是在场的交往又是离身的交往，文化族群之间的交往更加频繁。

这段文字意在强调：

- A 文化交流途径依赖数字化传播
- B 数字技术不断创造文明新样式
- C 数字化的交流不再受时空限制
- D 数字媒介多维度影响文明交流**

33. 人类特别喜欢读到和关注有关他人和社会的负面信息，媒体从业者则是顺应这种喜好，这使人们接触到更多的负面信息而非正面信息。这种“有偏见的暴露效应”解释了为什么人们认为当前的道德水平相对较低，而当人们回忆过去时，负面事件更可能被遗忘，这是由于大脑的内在机制要求不良事件引起的负面反应情绪必须被平复，因此时过境迁，再大的悲剧也可以慢慢放下。这种“有偏见的记忆效应”又解释了为什么人们认为过去的道德水平相对较高。

这段文字意在说明：

- A “世风日下”可能是一种群体心理错觉**
- B 心理层面人们更愿记住过去美好的事件
- C 道德水平的高低取决于人们负面事件的影响
- D 媒体传播强化了人们对负面信息的接收

34. 1 万多年前进入新石器时代后，中国中东部地区形成五大文化系统、彼此之间已有一些联系，经过几千年的文化交流，中国大部地区整合成四个文化系统并开始接触融合：受上山文化的陶壶等泥质陶器的影响，中原地区裴李岗文化出现泥质陶，裴李岗文化人群的西进催生了白家文化，而且向北对磁山文化、向南对彭头山文化都有影响。裴李岗文化发挥了纽带作用，四个文化系统初步联结为一个相对的文化共同体，从而有了早期中国文化圈或文化上早期中国的起源。

这段文字旨在强调：

- A. 中国文化共同体源于新石器时代
 - B. 中国文化圈地理范围不断演变发展
 - C. 裴李岗文化是早期中国文化圈的核心
-

D. 文化上早期中国源于各文化系统的交融

35. 很多手工艺材料是因其所成之物原本的功能在现代社会中弱化或消失，才造成选材方向的改变，由此，造物不再依据客观需求，而是更多地转向主观的、表达个性的艺术创作。例如，古人对砚材评介的首要标准是适于研墨而非为雕刻观玩，于墨材而言，首要则是适于书写而非为模印赏鉴。回溯历史，由古人之物及用物文化可见，传统手工艺的发展是不断发现和使用合用的材料造物以为人服务，而不是仅仅围绕某种物质存在的技术活动。

关于手工艺材料，文中传统观点认为：

- A. 选材应趋向多元化
- B. 发掘材质本身之美

C. 材料之美源于适用

- D. 造物基于艺术表现

36. 开发前沿技术应用场景的实践价值，在于通过将前沿技术落地转化为生产力。高技能人才的可贵之处不在于突破核心技术，而在于为产业痛点、难点问题找到核心技术的最佳实践运用场景。例如，将智能技术引入水、电、煤等公用事业领域，但不同行业在应用场景选择上存在差异，电力企业重点推进智能电网建设，燃气行业的建设重点是智能表具系统……这些前沿技术的应用场景不是原始创新，而是技术的跨界融合，需要一线技术人员基于行业特点寻找适合的前沿技术实现赋能和融合。

最适合做这段文字标题的是：

- A. 智能技术的开发与利用具有行业选择性
- B. 技术落地的基础——突破创新，跨界融合
- C. 找准问题——开发前沿技术应用场景的核心

D. 高技能人才——前沿技术应用落地的“嫁接者”

37. 在确定是否认识一个人时，我们的大脑会做出三个反应。首先，我们会确认这个人的面部特征，例如他是双眼皮还是单眼皮，高鼻梁还是薄嘴唇；之后，大脑根据这些特征进行人脸识别，判定我们是否认得这张脸；最后再回忆他的名字。简而言之，我们在看到一张脸后，大脑只需简单地识别是否见过；而人的名字藏在记忆的某个角落，我们需要通过检索、回忆等过程、才能最终确定答案，比识别更加复杂。所以_____

填入画横线部分最合适的一项是：

- A. 大脑确定是否认识一个人的过程非常的复杂

B. 记住一个人的名字比记住他的长相要难得多

C. 大脑根据一个人的面部特征来回忆他的名字

D. 记忆名字需要与对词语、句子的记忆相联系

38. 众多民间手工艺、戏曲等非物质文化遗产的遗失，与文化传承人缺乏丰厚的收入有关。

即便以外部力量进行保护性抢救，往往也只是将其“标本化”，难以恢复其原生活力。

_____ 比如，《中国通史》等纪录片在视频平台上收费观看，使传统文化释放出可观的商业价值，纪录片创作方、版权方、播出方实现商业共赢；有花丝镶嵌技艺非遗传承人入驻电商平台，一年多来售出超20万件工艺产品。

填入画横线部分最恰当的一项是：

A. 文化产业在新的发展能量集聚下将释放出更多精彩

B. 正是对传统文化的创新演绎成就了文化产业的发展

C. 只有新媒体技术的加持，才能推动传统文化的传播

D. 只有文化消费市场活跃，传统文化创作才能有动力

39. “中华”一词始于胡汉的区分，却终于胡汉的融合。所以产生这样的结果，根本原因在于“中华”一词并不是一个狭义的“汉人”概念，而是一个较宽泛的文化概念，既不对胡族设限，胡族对其也无明显的抵触与排斥。特别是“中华”之“华”所具有的以“衣冠礼乐”来喻指文化的象征意义，给“中华”这一概念带来了极大的包容度。入唐以后，“中华”一词作为唐朝别称与中国名号被广泛使用的事实，清楚地告诉我们，“中华”概念的实质是“华夏融合”。从很大意义上说，这正是后来历史发展中被“中华”所称谓的人们共同体得以不断扩大的原因。

根据这段文字，“中华”一词的特点是：

A. 文化性

B. 历时性

C. 模糊性

D. 开放性

40. 科创企业往往轻资产、高风险，缺乏担保资金和抵质押物，与银行传统的信贷模式不匹配。科创企业在发展过程中还存在研发资金投入大、技术转化周期长等问题。当前，大多数银行的科创金融产品依赖于传统信贷模式，对于大量科技创新企业信贷融资存在不敢贷、不愿贷的情况。实践中，金融机构对于企业知识产权质押融资的应用依然存在一定阻碍，现有产品仍以短期为主，缺乏针对科创企业的中长期贷款产品。

这段文字意在强调：

- A. 科创企业的贷款不足
- B. 科创企业创业风险高
- C. 缺少适合科创企业的金融产品
- D. 金融机构对科创企业信心不足

41. 天文学家用基尼系数来描述星系的面亮度分布不均(用星光替代社会学基尼系数定义中的人类财富):基尼系数越大,意味着亮度越集中分布在少数区域,星系越倾向为椭圆(年老)星系,年轻和年老星系的分界线就在0.5-0.6左右,即:如果一个星系的亮度分布不均匀程度超过0.5,则该星系很大概率近似椭圆星系,已失去了制造新恒星的能力了(变成年老星系)。基尼系数在区分不同类星系中的巨大成功使其成为研究星系及星系形态的一个重要参数。

根据这段文字,基尼系数在区分不同类星系中的成功表现是:

- A. 区别不同星系表面的明亮程度
- B. 演示不同星系从年轻到年老的过程
- C. 可以用来描述不同星系与恒星的形状
- D. 判断不同星系是否失去制造新恒星的能力

42. 在真空蒸发器内,卤水在外来蒸汽的作用下加热沸腾,水分的蒸发使卤水得到浓缩,卤水蒸发出的二次蒸汽温度低于外来输入蒸汽的温度,但仍然携带较多热量,二次蒸汽中的热量会被输入到下一级蒸发器中,二次蒸汽的温度相对较低,为了有效利用其中的热量,此时会降低蒸发器中的压力,水的沸点会随之降低,卤水会在更低的温度下沸腾,其产生的蒸汽又能够被用于气压更低的下一级蒸发器中。如此,通过多个蒸发器联用,不断回收蒸汽来进行加热,可以大大节省蒸汽的消耗量。

根据这段文字,为了节省蒸汽消耗量需采取的措施是:

- A. 降低卤水的浓度
- B. 提高蒸汽的温度
- C. 降低蒸发器中气压
- D. 增加蒸发器的数量

43. 近年来,为建设便民生活圈,北京、上海、杭州等多地兴办了不少社区食堂.除了老年人,一些年轻人、附近社区居民也逐渐成为忠实的消费者。数据显示,截至2022年底,上海市已累计建成社区(长者)食堂305家,老年助餐点1303家。不过,在一些社区食堂备受追捧的同时,也有部分食堂出现运营困难,客源单一、饭菜质量不高是其乏人问津的主要

原因。社区食堂的经营需通过科学布局、集约建设和精细化运营实现，要避免脱离社区实际盲目配置食堂，浪费公共资金。经营者也须有市场化竞争意识，在长期运营上拿出“绣花功夫”

最适合做这段文字标题的是：

A. 社区食堂的“小餐桌”与大民生

B. 统筹社区食堂“公益”与“效益”

C. 激发活力，创新社区食堂运营新模式

D. 办好食堂，让社区居民共享幸福“食”光

44. 发展现代设施农业是转变农业发展方式的重要内容。相较于传统农业，现代设施农业把保护环境、低碳节能作为发展的前提条件，按照循环发展理念通过运用人工智能技术、物联网技术等，不仅可以节约大量水资源、土地资源和人力资源，还能有效降低污染物的排放量，减少资源浪费和环境污染。此外，现代设施农业使用高科技技术和先进设备，通过农业生产标准化、精准化、智能化，让土地利用率、劳动产出率更高，资源能耗、生产成本更低，产品更有品质、生态更加安全，助力农业增效和农民增收。

关于现代设施农业，这段文字未提及：

A. 推动传统农业向现代农业转型升级

B. 减少资源消耗将促进农民收入增长

C. 有效降低环境污染有利于保护环境

D. 运用人工智能实现农业无人化生产

45. 语言规划学的研究告诉我们，什么样的语言生活，塑造什么样的语言样态，也就培育什么样的语言能力。古诗词和复杂灵动的修辞有其恒久的价值与魅力，但不要忘记，在唐诗宋词滥觞的岁月，它们也是因适应当时的文人语言生活才获得发展的。回到今天，不论线上线下，我们都很难要求话语里也三句一成语、五句一典故。恰恰相反，不同于直接生硬的引用，在这个网络时代，有恒久魅力的经典语言文化正在以新的方式焕发生机。如把古诗词咏唱出来，新造成语用四字格描述今人情绪……如此种种不胜枚举。

这段文字意在说明：

A. 经典的文化元素在每个时代都会流行

B. 每个时代都有其独特的语言生活和样态

C. 语言文化必须适应语言生活才能获得发展

D.经典文化元素在不同时代会有不同的表现形式

46. ①而一些飞岛会凭借着敏锐的感知能力发现这一变化
②为了逃生，这些动物就会表现出异常的举动
③地震发生之前发出的次声波，能够被许多动物提前感知到
④地震出现之前，地球的磁场也会发生变化
⑤地震的出现，是板块随着时间的推移，进行不断的挤压和碰撞下形成的自然现象
⑥所以在地震来临之前，鸟类就会因为磁场的变化，而率先感知到了危险然现象并做出
异于平常的行为

将以上6个句子重新排列，语序正确的一项是：

A.⑤③②④①⑥

B.⑤④①⑥③②

C.③②④①⑥⑤

D.③⑤⑥①④②

47. ①作为研究文化遗存的一门学科，考古学无法与人相割裂，在科研中，应力求“透物见人”，抓住人类历史进程的发展规律

②公共考古学应积极搭建考古知识的传播与共享平台，加快考古学文化的普及化与大众化，促进考古学知识与民众的沟通交流

③以公众为中心，进行考古和文化遗产的公共文化传播是考古工作者的社会责任

④在这一过程中，考古工作者只是启蒙者，公众才是真正的践行者

⑤坚持考古学的大众化，以公众为中心是应该坚持的原则之一

⑥在共享中，更要以人为中心，以多方式、多角度、多层次对考古学知识进行阐释，提供更多的“文明的碎片”和观点，拉近公众与考古的距离，帮助公众完成自己的“文明拼图”

将以上6个句子重新排列，语序正确的一项是：

A.③②⑤①⑥④

B.⑤④③②①⑥

C.③⑤⑥②①④

D.⑤②④③①⑥

※※※第二部分结束，请继续做第三部分!※※※

第三部分数量关系

(共13题，每题1.3分，共16.9分，参考时限15分钟)

在这部分试题中，每道题呈现一段表述数字关系的文字，要求你迅速、准确地计算出答案。

请开始答题：

48. 高校管理学院某期培训班有不到100名学员参加，期中、期末两次考试平均分分别为68分和75分，期中考试不及格学员平均分为53分，及格学员平均分为74分；期末考试不及格学员平均分为47分、及格学员平均分为83分。问这期培训班有多少名学员参加？

A.42

B.54

C.63

D.77

49. 企业将12个技术培训名额分配给甲、乙、两三个研发团队。要求乙团队分配的培训名额比甲团队少，但比丙团队多，且每个团队至少分配1个名额。问有多少种不同的分配方式？

A.6

B.7

C.36

D.42

50. 运动会招募志愿者，第一次招募了不到100人，其中男女比例为11:7；补招若干女性志愿者后，男女比例变为4:3。问最多可能补招了多少名女性志愿者？

A.3

B.5

C.6

D.10

51. 商店销售甲、乙、丙、丁四种商品，每件分别盈利15元、9元、4元和1元。某日销售这四种商品共40件，共盈利201元。四种商品每种至少销售1件，且甲、丁商品销量相同。问当天丙商品的销量为多少件？

A.21

B.27

C.29

D.31

52. c地为a、b两地直线道路上的一点，甲、乙两人9:00分别自a、b两地同时出发匀速相向而行，甲的速度是乙的1.5倍，甲9:40到达c地休息10分钟后继续向b地前进；乙全程不休息，在10:40到达c地，问甲、乙相遇的时间为：_____

A.10:00

B.10:10

C.10:20

D.10:30

53. 部队射击比赛中，5名参赛的战士共击中了88次目标。已知任意2人击中的目标数量均互不相同，问射击成绩排前两名的战士至少击中了多少次目标？

A.37

B.39

C.58

D.82

54. 王师傅加工零件，他可同时操作4台仪器对零件进行抛光，每个零件需2面抛光才能加工完成，抛光1面需2分钟，问6个零件最少用多少分钟才能加工完成(换零件时间不计)？

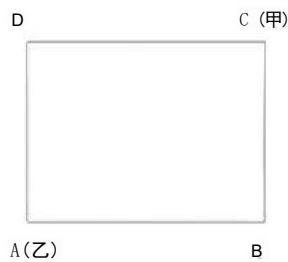
A.5

B.6

C.7

D.8

55. 某校园围墙外的道路形成一个边长为300米的正方形(如图所示)，甲、乙两人分别从正方形的两个对角沿逆时针方向同时出发，甲、乙的步行速度比为9:7。问甲、乙两人第一次处于同一条边是在哪一条边上？



A.AB

B.BC

C.CD

D.DA

56. 安排 A、B、C、D 共4个研发团队参与甲、乙、丙3个课题的研究，要求每个课题至少有1个团队参与，每个团队必须且只能参与1个课题，如甲课题参与的团队数超过1个，则 A、B 都不参与甲课题，问共有多少种不同的安排方式？

A.24

B.26

C.36

D.42

57. 一个白色圆柱体零件的底面半径是高的1.5倍，现将其表面涂上黑漆之后，沿下图所示虚线方向切割为4个完全相同的部分。问单个部分的黑色面积是白色面积的多少倍($\pi \approx 3.14$)？

- A.不到1.1倍
B. 1.1-1.2 倍之间
C.1.2-1.3 倍之间
D. 1.3 倍以上

58. 某单位从所有职工中选出若干人参加培训，如果选择4人，可能的选择方式正好是选择3人时的10倍，问该单位有多少名职工？

- A 32
B 33
C 42
D 43

59. 某羽毛球俱乐部推出充值会员优惠活动，具体为月卡会员费用打八折，年卡会员费用打七折，充值总时长1年的月卡比1年的年卡所需费用，打折前后分别多88元和100元，问打折后充值18个月的会员最少需要：

- A. 不到340元
B. 340-400 元之间
C.400-460 元之间
D. 460 元以上

60. 从甲地到乙地的全价机票为2000元，购买全价或折扣机票，每张都要支付120元税费，从甲地到乙地的高铁票价为680元，企业要安排20人当日从甲地前往乙地出差，单程总预算不超过2万元，已知当日高铁票、机票都充足，2折、3折和5折机票分别还剩余2张、3张和5张，其余为全价机票，问在预算范围内最多能安排多少人乘飞机前往乙地？

- A. 11
B. 12
C. 13
D. 14

※※※第三部分结束，请继续做第四部分!※※※



第四部分判断推理

(共30题，每题1.4分，共42分，参考时限30分钟)

一、图形推理。请按每道题的答题要求作答。

请开始答题：

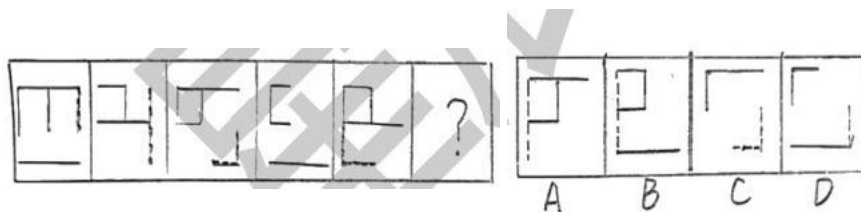
61. 从所给的四个选项中，选择最适合的一个填入问号处，使之呈现一定的规律性：



A B C D

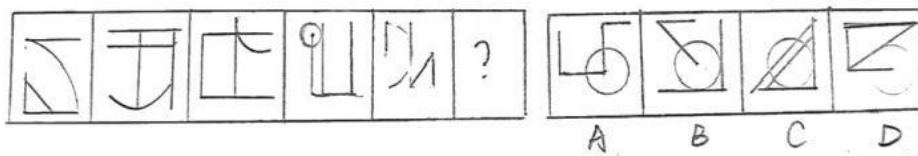
正确答案：A

62. 从所给的四个选项中，选择最适合的一个填入问号处，使之呈现一定的规律性：



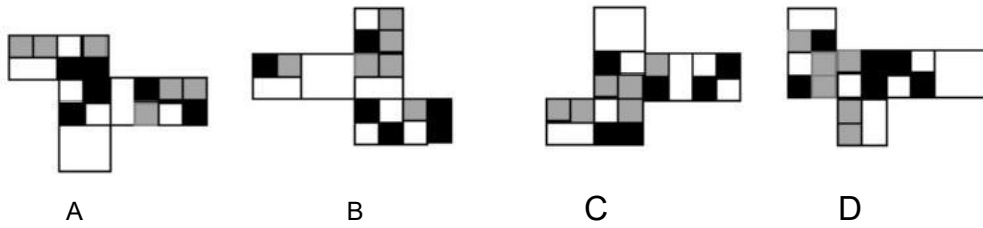
正确答案：A

63. 从所给的四个选项中，选择最适合的一个填入问号处，使之呈现一定的规律性：



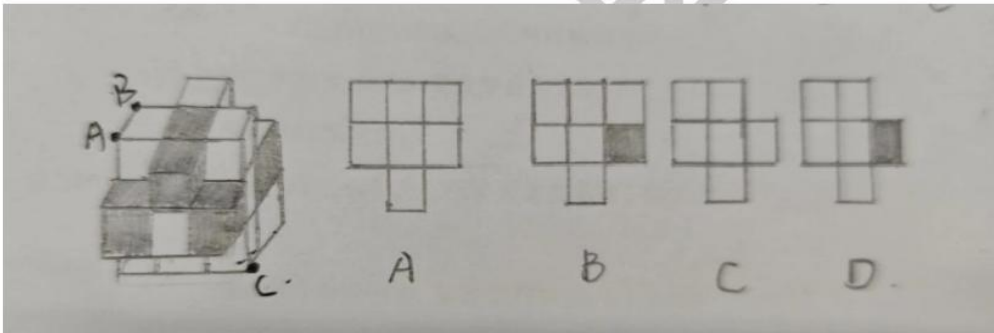
正确答案：D

64. 下列纸盒的外表面展开图中，哪一个折叠成的纸盒和其他三个不一样？



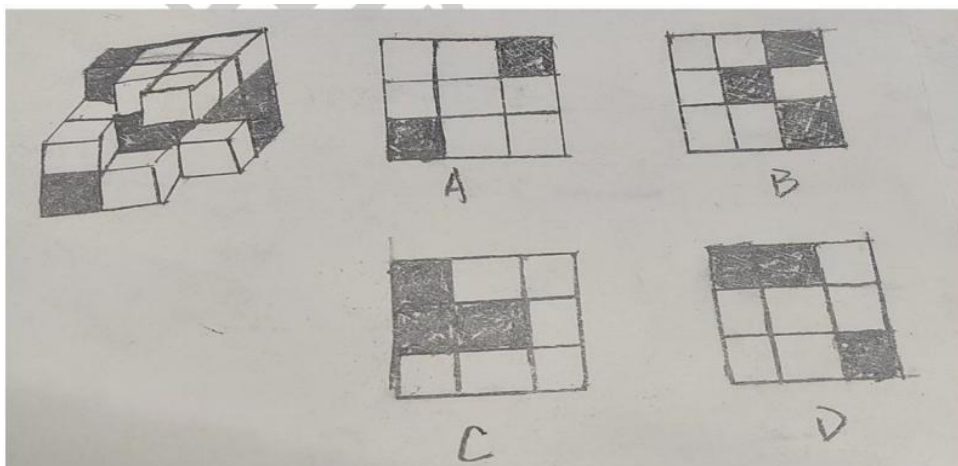
正确答案： B

65. 下图为15个白色和5个灰色正方体组合而成的多面体，将其经A、B、C 三个顶点切开后，正确的截面是：



正确答案： C

66. 下图为15个白色和5个灰色正方体组合而成的多面体，右边哪一个不可能是其某个角度的视图？



正确答案： B

二、定义判断。每道题先给出定义，然后列出四种情况，要求你严格依据定义，从中选出一个最符合或最不符合该定义的答案。注意：假设这个定义是正确的，不容置疑的。

请开始答题：

67. 职场义警是指认为自己在没有正式授权的情况下，能够监控周围环境中是否存在违反公司规范的迹象，并在自认为适当或合理的时候对感知到的违规同事进行直接或间接处罚的人。

根据上述定义，下列属于职场义警的是：

- A. 小张认为公司强制加班的行为违反了劳动法，于是向公司主管部门进行实名举报
- B. 戴红袖标的居委会王阿姨在斑马线义务执勤时，对乱闯红灯的行人进行口头批评
- C. 有同事利用上班时间闲聊，老周看不过去，瞅准机会找到这位同事进行批评教育
- D. 保卫科小刘专门就公司员工安全意识弱现象向领导进行汇报，建议领导通报批评

68. 领导负面反馈是指领导对员工当前行为或绩效未达到目标或标准时所给予员工的指示，否定或批评，其目的是激励员工更加努力工作或改变行为方式以减小差距。

根据上述定义，下列属于领导负面反馈的是：

A. 人力资源部王部长对总经理说，员工小李的工作能力实在太差，建议合同到期后不再续聘

B. 厨师小徐因为炒菜口味问题被顾客多次投诉，厨师长对他进行了严肃批评并帮他寻找原因

C. 在单位年终总结会上，小冯为激励自己进步，积极就自身工作不足向同事们征求批评意见

D. 办公室侯主任把年度考核不合格的员工名单递交给人事处，人事处向员工通报了处理结果

69. 矛盾职业认同是指从业者对自身职业兼具认同和不认同，或认同职业某一方面而不认同其他方面，反映了个体对自身职业的复杂情感。

根据上述定义，下列属于矛盾职业认同的是：

A. 小强对未来就业感到迷茫，一方面认为本专业相对好就业，另一方面觉得工作压力会很大

B. 虽然觉得社会上有很多人对网络主播并不认同，但小飞却决定将主播当作一生的事业来做

C. 小刚的父母希望他毕业后考公务员，但小刚自己却更喜欢做一名教师

D. 老汪觉得送快递很累，但工作时间相对自由，因此他还是决定干下去

70. 逆向选择性监管是指在某些监管领域中，监管者对违规程度较低的目标群体严加监管，对违规程度更高的监管对象却相对宽松，使得监管强度与对象违规程度成反比的组织现象。根据上述定义，下列属于逆向选择性监管的是：

A. 监管部门对证照齐全的大中型校外培训机构严加管控，却对问题突出的个体培训疏于管控

B. 候车时，守序排队的人上车没有座位，而插队的人却有座位，对此公交车司机却不加干预

C. 班主任把易犯错误且屡教不改的学生座位调整在前排，以便任课老师监督

D. 在每年的消费者权益保护日晚会上，监管部门都会重点曝光一些违规产品

71. 即兴能力是企业在紧急，不可预测环境下，计划与行动同时进行、通过对资源进行利用和整合呈现出创造性。从而自发地实现预期目标的能力。

根据上述定义、下列属于即兴能力的是：

A. 企业聚餐、员工老杨一杯酒下肚，情绪立即高涨起来，即兴为大家表演了诗朗诵

B. 负责公司招聘的人力资源部通过对考生即兴演讲效果的比较，确定最终录用人员

C. 某企业面对技术封锁，边调整发展规划，边创新研发技术，最终成长为行业巨头

D. 为应对未来劳动力成本大幅攀升的不利影响，企业启动了机器设备升级换代工作。

72. 警觉性市场学习是指企业或组织为提高深度市场洞察而提前建立预警系统，并保持注意力集中以预测市场变化或感知客户需求微弱信号大学习行为。

根据上述定义、下列属于警觉性市场学习的是：

A 公司提醒小吴要想在职场中保持优势地位，避免被淘汰，就必须利用业余时间多学习

B. 阳阳上课时注意力不集中，为帮他养成良好学习习惯，家长聘请了心理专家进行干预

C. 某知名企业组建市场调研部，定期监测市场动向，积极培训员工，努力规避潜在风险

D. 某房地产开发商通过暂缓开发或拖延施工进度等方式，试图化解可能面临的发展危机

73. 领导者对下属或员工的过错惩罚有两种，权变惩罚与非权变惩罚，领导权变惩罚是指领导根据下属的过失程度酌情采取惩罚；领导非权变惩罚是指因下属的过失行为，领导施加了与下属实际绩效和表现不相符的过度惩罚。

根据上述定义，下列属于领导非权变惩罚的是：

A. 小刘操作机床时，故意违反操作规程造成机床主机严重受损，公司根据相关规定对其进行加重处罚

B. 因甲方无法如期履行合同义务，乙方领导指示法务部门根据合同约定条款严肃追究甲方的违约责任

C. 刘律师因疏忽大意错过了案件上诉期，尽管其已获得委托人谅解，但律所仍对刘律师施以顶格处罚

D. 小郑不小心给客户少发了部分产品，发现后及时补发，按规定只需罚款、但是经理却坚持要将他开除

74: 积极独处是个体主动选择与他人的交际分离，选择自我自由并投入到有意义的、愉快的活动中，从而产生的一种内在积极体验。

根据上述定义、下列属于积极独处的是：

A. 小孙睡眠质量不好，外出工作时一般都不和同事一起住

B. 小钱已经锁定了晚上的演唱会门票，谢绝了同事下班后聚餐的邀请

C. 为了准备研究生入学考试，小赵几乎不参加社交活动、他感到很充实

D. 小周适应不了职场人际关系，辞职后不愿出去找工作，整日在家刷视频

三、类比推理。每道题先给出一组相关的词，要求你在备选答案中找出一组与之在逻辑关系上最为贴近、相似或匹配的词。

请开始答题：

75. 飞机：机库：机场

A. 课桌：桌椅：桌面

B. 药品：药盒：药箱

C. 乘客：客车：车站

D. 汽车：车轮：车轴

76. 制造：中国制造：智能化中国制造

A. 小说：长篇小说：中长篇科幻小说

B. 批评：自我批评：剖析式自我批评

C. 学习：深度学习：机器人深度学习

D. 锻炼：体育锻炼：有意识体育锻炼

77. 风吹：草低：见牛羊

A. 浪打：船摇：靠舵手

B. 光照：叶肥：促生长

C.游人：如织：显道窄

D.雨淋：花落：闻余香

78. 窗户：窗帘：遮光

A.桌子：桌布：防污

B.电脑：鼠标：操作

C.座椅：座垫：美观

D.茶杯：茶叶：茶水

79. 信息科技：生物科技：科技

A.机械工业：智能工业：工业

B.纺织产业：物流产业：产业

C.公共交通：城市交通：交通

D.商品住房：保障住房：住房

80. 文字：汉字

A.判断：概念

B.宇宙：恒星

C.中国：北京

D.工人：矿工

81. 前因后果：因果

A.内忧外患：忧患

B.南征北战：征战

C.左顾右盼：顾盼

D.有始无终：始终

82. 专业课对于() 相当于 () 对于 交响曲

A.网络课：独奏曲

B.公共课：进行曲

C.考试课：古筝曲

D.选修课：前奏曲

四、逻辑判断。每道题给出一段陈述，这段陈述被假设是正确的，不容置疑的。要求你根据这段陈述，选择一个答案。注意：正确的答案应与所给的陈述相符合，不需要任何附加说明即可以从陈述中直接推出。

请开始答题：

83. 视觉(光)是哺乳动物重要的感知，其促进幼年大脑发育的功能得到了广泛关注。在发育过程中视网膜自感光神经节细胞是最早具有感光功能的网膜感光细胞，专家认为它是介导光促进幼年大脑发育最关键的感光细胞。

以下哪项如果为真最能支持专家的观点？

A.蜻蜓拥有近乎三百六十度的视野，它们不用频繁地扭动头部，就可以发现目标猎物

B.新生儿出生前视网膜已经发育，随着婴儿月龄增加，追物能力变强，视野扩大，多增加光环境可以促进新生儿大脑发育

C.细胞光感受的缺失，会导致幼鼠在学习速度上的缺陷，但这种缺陷可以被幼年时人为

激活该细胞或视上核的催产素神经元所弥补

D. 小编蝠的视杆细胞主要用于感受暗光，虽然它们具有视力，但回声定位能力却是其感知周围环境的主要手段，可以忽略视觉对它的重要性

84. 某高校针对去年起图书馆的图书借阅情况做了调查，数据显示，文学类书籍的借阅量大大超过了科技类书籍。因此，文学类书籍的受欢迎程度要高于科技类书籍。

以下哪项如果为真、最能削弱上述论证?

A. 科技类书籍学习难度较大

B. 文学类书籍占该校图书馆馆藏一半以上

C. 该校就读文科专业的学生接近三分之二

D. 除了文学类书籍、法律、哲学类书籍也很受欢迎

85. 有研究报告指出，当前地球上近一半的开花植物受到灭绝的威胁，数量超过10万种。而介于90%的药物来自植物，因此人类可能会失去大多数药物来源。

以下哪项如果为真最能质疑上述观点?

A. 动物以及真菌类也是重要的药物来源

B. 植物受威胁甚至濒临灭绝的情况明显超过动物

C. 地球上的植物大概有40万种，当前开发为药用植物的有1万多种

D. 植物的药用价值也正是其濒临灭绝的主要原因，亟需寻找可替代药物

86. 帕金森病作为一种严重的神经变性疾病，其背后发生的潜在原因尚不清楚，尽管遗传突变已经成为诱发帕金森病的一种已知原因，但90%的病例仍然是零星发生的，且没有明确的遗传起源，最新研究发现，环境因素如肠道微生物代谢产物会破坏人类产生多巴胺的神经元，导致类似帕金森病的症状出现，这一发现表明潜在的环境因素是帕金森病的诱因之

以下哪项如果为真，最能支持上述观点?

A. 人类微生物组可能影响神经退行性疾病

B. 帕金森病患者的肠道微生物组环境与健康人不同

C. 帕金森病诱因的发现为开发新型疗法提供了方向

D. 杀虫剂和工业化学物质等与机体神经退化之间存在明显关联

87. 世界上一些棉花种植区域的虫害导致全球棉花价格大幅上涨，相比之下，大豆的价格长期保持稳定，由于棉花成熟快，甲国许多大豆种植者计划停止大豆种植而改种棉花。所

以，至少在未来几年内，棉花价格的高涨将大幅提高棉花种植者的收入。

以下哪项如果为真，最能消弱上述论证？

- A. 过去几年大豆种植成本显著增加，预计将继续攀升
- B. 很少有消费者愿意为棉织品支付比现在更高的价格**
- C. 甲国新研发的杀虫剂价格低廉，还能有效杀死棉花害虫
- D. 未来几年，甲国的棉花和棉花制品需求量不会急剧增加

88 借助水文气象卫星20年采集的数据，科学家看到全球56%的海水变得越来越绿，这些海水都处在南纬40度和北纬40度之间的热带和亚热带水域，海颜色由上层海水所含物质决定，深蓝色意味着海洋中没有太多生物，绿色则代表海里存在着以浮游植物为基础的生态系统，科学家据此认为，气候变暖让这片海域变得越来越绿。

以下哪项如果为真，最能支持上述结论？

- A 变绿海域都处在热带和亚热带，特别是赤道附近
- B 如果海洋持续变暖，海洋变绿现象会持续地加剧
- C 气候变暖会大大加速热带和亚热带海洋浮游植物生长**
- D 模拟海洋生态系统证明气候变暖与海水变绿之间存在正相关关系

89. 小赵、小李、小周、小孙、小钱五人一起参与“谁是卧底”的游戏。已知五人中有两人是卧底，且存在以下情况：

- ①小赵、小李两人中至少有一人是卧底
- ②如果小李是卧底，小周一一定是卧底
- ③只有在小孙是卧底时，小钱才是卧底
- ④ 如果小钱不是卧底，那么小赵也不是卧底
- ⑤小孙不是卧底

则卧底是：

- A. 小赵和小钱
- B. 小钱和小李
- C. 小李和小周**
- D. 小赵和小周

90 某单位邀请7位评标专家甲、乙、丙、丁、戊、己、庚参加评标工作，7位评标专家随机被分成两组，其中第一组3人，第二组4人，但分组须符合以下要求：

- ①甲和丙不能在同一个小组
- ②如果乙在第一组，那么丁必须在第一组

③如果戊在第一组，那丙丙必须在第二组

④己必须在第二组

如果丙、戊在同一组，那么不可能在同一组的是：

A 甲和乙

B 甲和丁

C 乙和庚

D 丙和庚

※※※第四部分结束，请继续做第五部分！※※※

第五部分资料分析

(共20题，每题1.5分，共30分，参考时限25分钟)

所给出的图、表、文字或综合性资料均有若干个问题要你回答。你应根据资料提供的信息进行分析、比较、计算和判断处理。

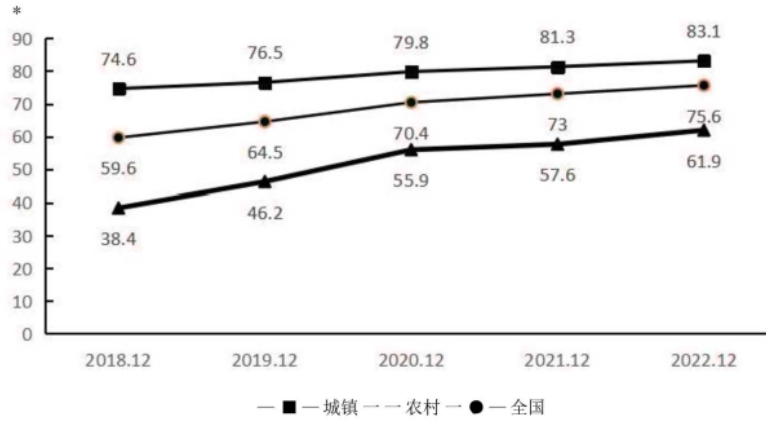
请开始答题：

一、根据以下资料，回答91-95题。

截止2022年12月，我国网民规模约为10.67亿，较2021年12月新增网民约3549万，互联网普及率达75.6%，较2021年12月提升2.6个百分点。我国网民使用手机上网的比例达99.8%，较2021年12月增加0.1个百分点；使用电视上网的比例为25.9%；使用台式电脑、笔记本电脑、平板电脑上网的比例分别为34.2%、32.8%和28.5%。我国城镇网民规模约为7.59亿，占网民整体的71.1%，农村网民规模约为3.08亿，较2021年12月增长约2371万，占网民整体的28.9%

2022年12月，20-29岁、30-39岁、40-49岁网民占比分别为14.2%、19.6%和16.7%；50岁及以上网民群体占比由2021年12月的26.8%提升至30.8%，互联网进一步向中老年群体渗透。

2022年12月，线上办公用户规模约达5.4亿，较2021年12月增加7078万户，占整体网民的50.6%。互联网医疗用户规模约达3.63亿，较2021年12月增加约6466万，占网民整体的34%。农村地区在线教育和互联网医疗用户分别占农村网民整体的31%和21.5%，较上年分别增加2.7%和4.1%。



2018年12月~2022年12月中国互联网普及率

—■—城镇—▲—农村—●—全国

2018年12月~2022年12月中国互联网普及率

91. 截至2022年12月，我国20岁以上网民人数是20岁以下网民人数的：

- A.不到3倍
B.3-4倍之间
C.4-5倍之间
D.5倍以上

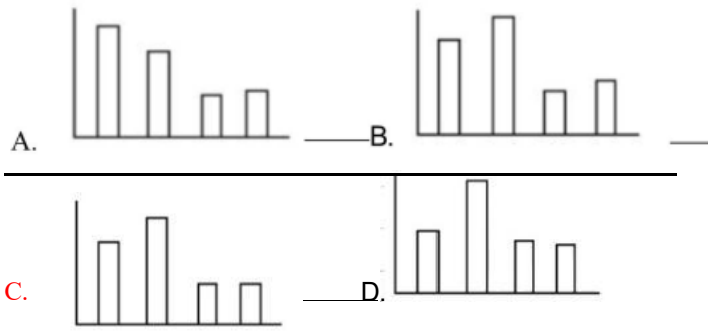
92. 截至2022年12月，我国城镇网民规模同比增速约为：

- A.1.2%
B.1.6%
C.2%
D.2.4%

93. 2019-2022年，当年12月我国城镇与农村互联网普及率同比增量相差在1个百分点以内的年份有几个？

- A.1
B.2
C.3
D.4

94. 以下柱状图中，最能准确反映2019年12月-2022年12月全国互联网普及率同比增量变化趋势的是(横轴位置代表增量为0)：



95. 以下信息中，能够从上述资料中推出的有几项？

- ①2022年12月我国手机网民人数同比增量
- ②2021年12月我国线上办公用户占网民整体的比重
- ③2022年12月我国城镇地区互联网医疗用户规模

A.0

B.1

C.2

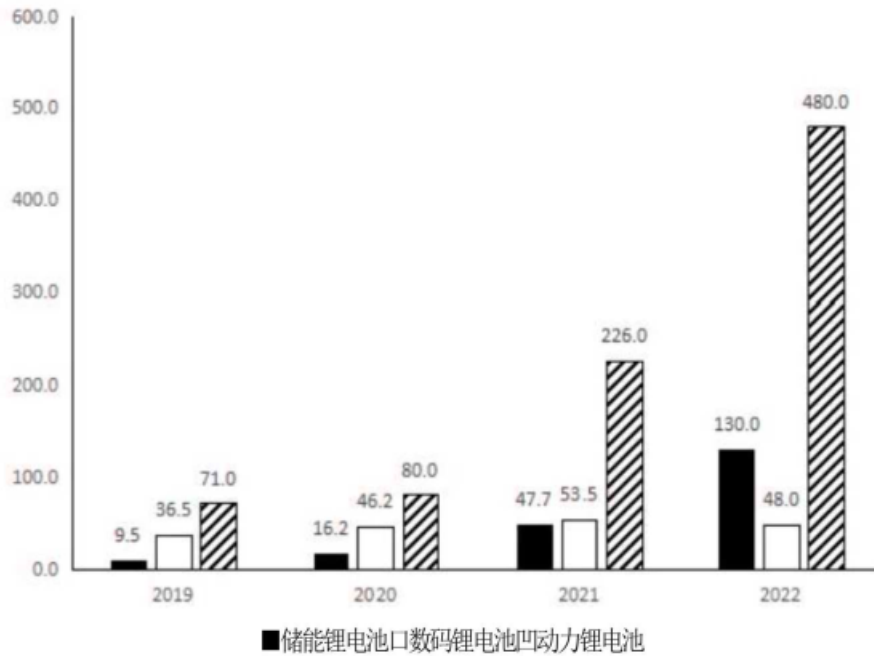
D.3

二、根据以下资料，回答96—100题

2022年中国锂电池出货量658GWh，同比增长101.1%。2022年中国动力锂电池装车量达294.6GWh，同比增长90.7%，高于全球同比增速18.9个百分点，占全球动力锂电池装车量的56.9%

2019—2022年中国新能源汽车产量与全球锂电池出货量

年份	2019	2020	2021	2022
中国新能源汽车产量(万辆)	119	146	368	722
全球锂电池出货量(GWh)	218	294.5	562.4	957.7



2019—2022年中国锂电池出货量

A. 不到45GWh

B. 45—47GWh 之间

C. 47—49GWh 之间

D. 49GWh 以上

97. 2019—2022年，中国锂电池年出货量超过全球锂电池年出货量一半的年份有几个？

A. 1

B. 2

C. 3

D. 4

98. 2021 年，全球动力锂电池装车量约为多少 GWh？

A. 271.5

B. 295.6

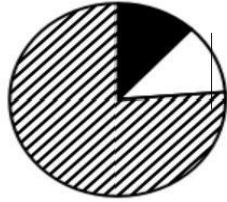
C. 301.4

D. 323.6

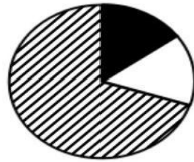
99. 以下饼图中，最能准确反映2022年中国锂电池出货量中，储能锂电池、数码锂电池和动力锂电池占比关系的是：

(黑色：储能锂电池 白色：数码锂电池 斜杠：动力锂电池)

A.



B.



C.



D.



正确答案: D

100. 在以下信息中，能够从上述资料中推出的有几项？

- ① 2019—2022年，中国储能锂电池出货量年均增速为3类锂电池中 fastest
- ② 2019—2022 年，中国锂电池出货量逐年增加
- ③ 2019—2022 年，中国数码锂电池年出货量同比增速逐年下降

C.55%

D.64%

104. 2023年1~5月, 天津口岸出口汽车平均单价同比增长率最大的月份是:

A. 1月

B. 2月

C. 4月

D. 5月

105. 在以下信息中, 能够从上述资料中推出的有几项?

① 2022年1~5月, 天津口岸汽车出口量最大的是3月

② 2023年1~5月, 民营企业月均通过天津口岸出口汽车2万辆以上

③ 2023年2月, 天津口岸出口汽车平均单价高于1月水平

④ 2022年1~5月, 汽车出口总价值占天津口岸出口商品总值的2%以下

A. 1

B. 2

C. 3

D. 4

四、根据以下资料, 回答106~110题。

2023年一季度, 新疆外贸进出口总值680.7亿元人民币, 同比增长80.3%。其中, 出口584.7亿元, 同比增长86.9%。3月当月, 新疆外贸进出口总值236.9亿元, 同比增长70%。其中, 出口203.4亿元, 同比增长78.9%;进口33.5亿元, 同比增长30.8%。

2023年一季度, 新疆15个地州市中, 乌鲁木齐、喀什、伊犁州、博州和塔城外贸规模居前五, 贸易值分别是176.0亿元、142.1亿元、121.9亿元、94.9亿元、33.5亿元, 伊犁州、塔城、哈密、克拉玛依、博州增速居前五, 同比增速分别为198.4%、183.6%、179.4%、163.3%、150.6%。

2023年一季度, 新疆实有备案外贸企业15486家, 同比增长6.5%;一季度, 新疆有进出口实绩的外贸企业1535家, 同比增加12%。新疆民营企业进出口650.1亿元, 同比增长94.2%。一季度, 新疆国有企业进出口25.7亿元;外商投资企业进出口4.9亿元。

2023年一季度, 新疆金属矿及矿砂、未锻轧铜及铜材、煤炭分别进口35.5亿元、11.4亿元、3.7亿元, 同比分别增长134.1%、65.3%、79.6%, 进口量同比分别增加102.5%、69.4%、78.8%。同期, 进口农产品15.2亿元, 同比增长20.5%。

106. 2022年3月, 新疆外贸出口值约为:

A. 26亿元

B. 114亿元

C. 139 亿元

D. 160 亿元

107. 2023年一季度，新疆外贸规模与增速均居前五的地州市有：

A. 喀什、博州和塔城

B. 伊犁州、博州和塔城

C. 哈密、克拉玛依和博州

D. 伊犁州、博州和乌鲁木齐

108. 2023年一季度，新疆有进出口实绩的外贸企业平均每家进出口值同比增长约：

A. 61%

B. 73%

C. 78%

D. 81%

109. 2023年一季度，新疆进口的金属矿及矿砂、未锻轧铜及铜材、煤炭合计约占新疆外贸进口值的：

A. 8.6%

B. 16%

C. 43%

D. 53%

110. 不能从上述资料中推出的是：

A. 2022 年一季度，新疆进口农产品总值超过12亿元

B. 2023 年一季度，新疆煤炭进口单价高于上年同期水平

C. 2023 年一季度，外贸规模前五的地州市贸易值之和，占新疆外贸进出口总值的比重高于75%

D. 2023 年一季度，新疆民营企业进出口总值占新疆外贸进出口总值比重低于上年同期水平

全部测验到此结束!